


À mon tour

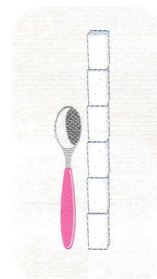
4 Dans cet exercice, 1 morceau de sucre ☐ représente 1 unité.




Complète.



Le livre  
mesure environ  
10 unités.




La cuillère  
mesure environ  
..... unités.



La flûte mesure  
environ ..... unités.

5

1 unité



Complète.

La trace A mesure environ 4 unités.

La trace B mesure environ ..... unités.

La trace C mesure environ ..... unités.

La trace D mesure environ ..... unités.